

Oltre la lezione di Italiano L2



Geografia

Quaderno di lavoro

Consulenza scientifica

Eva Pigliapoco, Ivan Sciapeconi

Coordinamento del progetto

Rita Cangiano

Autori

Vito Adelizzi, Rita Cangiano, Stefania Carlino, Raffaella Casassa, Alessandra Di Pasquale, Giselle Dondi, Luisa D'Orso, Michela Gallo, Patrizia Gattolin, Malvina Nurrito, Daniela Quatraro, Sara Satto, Ilaria Toldo

Illustrazioni

Raffaella Caprioli

Audio

Registrazioni audio a cura di Amt für Film und Medien

Montaggio audio: Alexander Werth

Voci dei brani audio: Cangiano Rita, Carlino Stefania, Gallo Michela, Nurrito Malvina, Pezzè Andrea, Pezzè Ivano, Pezzè Luca, Sgambelluri Luca, Toldo Ilaria

Direzione editoriale

Monika Carbonari

Impaginazione e grafica

grillo visual communication - Bolzano

Stampa

Tipografia della Provincia

Foto

Pixabay, Unsplash, Wikimedia, 123RF.

Il materiale didattico è disponibile anche online

www.blikk.it/bildung/unterricht/italienisch

© 2022 - Provincia Autonoma di Bolzano



**Direzione Istruzione e
Formazione tedesca**

Dipartimento Istruzione e Formazione tedesca - Ripartizione pedagogica

Via Amba Alagi 10, 30100 Bolzano

pa@provinz.bz.it

Oltre la lezione di italiano L2

Geografia
Quaderno di lavoro

Indice

Unità 1 Orientiamoci sulla carta geografica



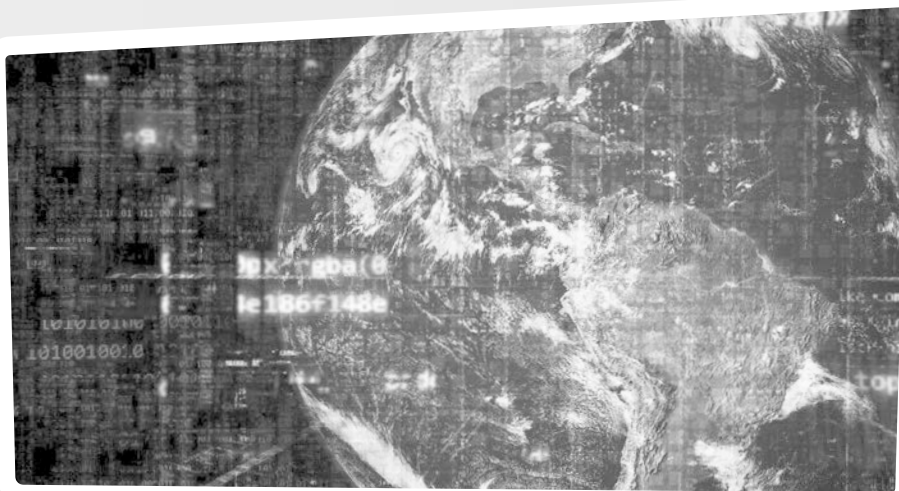


Unità 2 L'Italia



© 123RF - Cartarium

Unità 3 Il mondo



Unità 1
Orientiamoci
sulla carta
geografica

1

Associa il tipo di carta alla sua definizione.

1	2	3	4

1
Carta fisica

A
Rappresenta una zona poco estesa come il centro storico di una città.

2
Carta politica

B
Rappresenta vari aspetti del territorio come l'agricoltura, il tempo atmosferico, la rete stradale.

3
Carta tematica

C
Rappresenta gli aspetti naturali del territorio come le montagne, le pianure, i fiumi, i mari.

4
Mappa o pianta

D
Rappresenta la suddivisione del territorio ad opera dell'uomo come i confini, gli stati, le regioni.

2

Osserva e scrivi il numero della carta geografica vicino al suo nome.



1



2



3



4

Carta fisica

Carta politica

Carta tematica

Mappa o pianta

3

Ascolta e indica la carta geografica che viene usata.

<https://s.blikk.it/3685>



4

Rispondi alle domande.

1. Che tipo di carta usi per visitare il centro storico di una città?

2. Che tipo di carta usi per cercare i confini degli stati europei?

3. Che tipo di carta usi per conoscere il nome dei fiumi italiani?

4. Che tipo di carta usi per scoprire quali animali vivono in Sud America?

5. Che tipo di carta usi per conoscere il tempo atmosferico?


5

Leggi e completa come nell'esempio. Ricorda che la riduzione in scala indica di quante volte è stata ridotta ogni misura.



Riduzione in scala	Significa
1:500	1 centimetro sulla carta corrisponde a 500 centimetri (5 metri) nella realtà
1:1.500	1 centimetro sulla carta corrisponde a _____ centimetri (_____ metri) nella realtà
1:15.000	1 centimetro sulla carta corrisponde a _____ centimetri (_____ metri) nella realtà
1:100.000	1 centimetro sulla carta corrisponde a _____ centimetri (_____ metri) nella realtà

6


Riduci in scala le figure.



2 quadretti: 1 quadretto

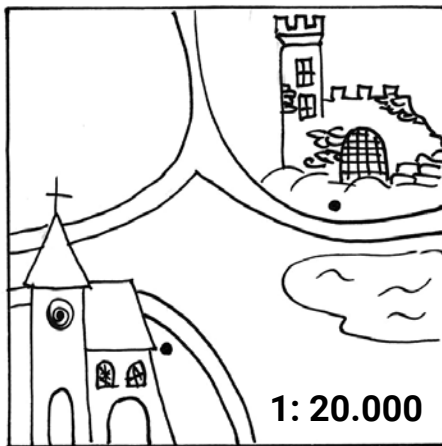


3 quadretti: 1 quadretto



7

Misura con un righello la distanza tra le due località e completa la tabella.




CHIESA DI S. STEFANO - CASTELLO

Distanza sulla carta: _____ cm

Distanza reale: _____ x 20.000 cm

= _____ cm

= _____ km




BOSCO - MUSEO

Distanza sulla carta: _____ cm

Distanza reale: _____ x 100.000 cm

= _____ cm

= _____ km



CASA - SCUOLA

Distanza sulla carta: _____ cm

Distanza reale: _____ x 5.000 cm

= _____ cm

= _____ km



Osserva la legenda di una carta geografia e scrivi con quali colori sono rappresentati i diversi elementi.

azzurro

fiumi

montagne

laghi

pianure

ghiacciai

colline

centri abitati



Osserva i vari tipi carte, leggi la legenda e racconta le informazioni che ricavi.

LOMBARDIA alcuni prodotti



castagne



uva





mele



mais

ALTO-ADIGE previsioni del tempo



sereno



poco
nuvoloso



molto
nuvoloso

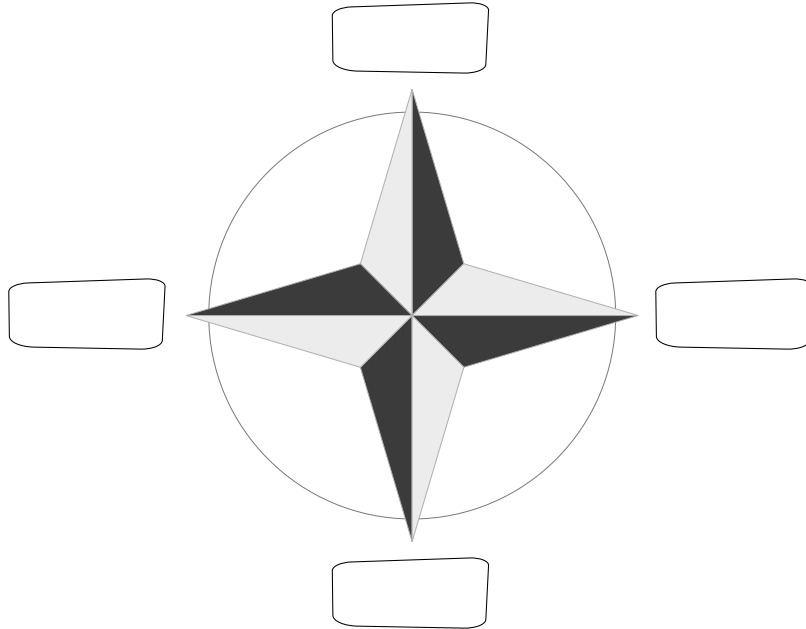


pioggia

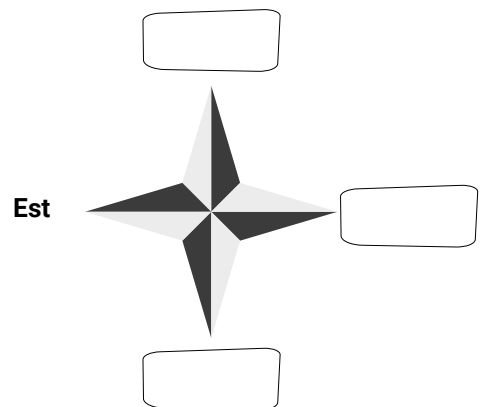
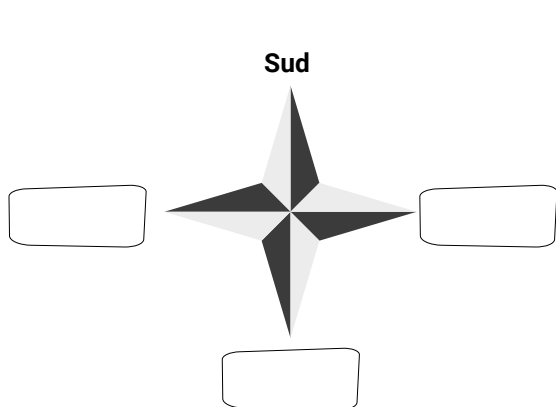
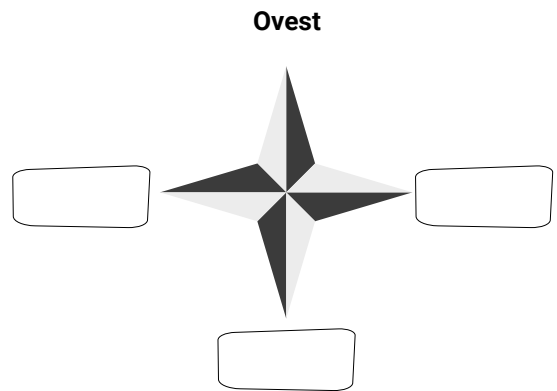
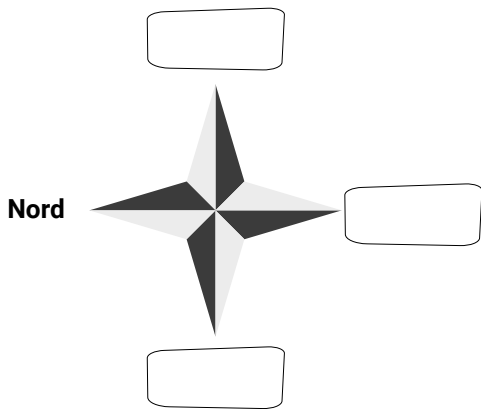


temporali

10 Scrivi i punti cardinali al posto giusto.



11 Completa con i punti cardinali mancanti.



12

Completa la tabella.

<i>Se guardi</i>	A destra hai	A sinistra hai	Dietro hai
A nord			
A sud			
A est			
A ovest			

13


Completa le frasi.

1. Il Sole sorge a _____.
2. Il Sole tramonta a _____.
3. La Stella Polare indica il _____.
4. L'ago della bussola indica sempre _____.
5. I punti cardinali sono _____.
6. Tra il Nord e l'Est c'è il _____.
7. Tra il Sud e l'Est c'è il _____.
8. Tra il Sud e l'Ovest c'è il _____.
9. Tra il Nord e l'Ovest c'è il _____.
10. Per orientarci di giorno possiamo usare il _____.

14

Sei al centro della Rosa dei Venti.

Scrivi la posizione degli oggetti disegnati.



Il delfino è a _____.

La tazza è a _____.

La casa è a _____.

La porta è a _____.

Il cane è a _____.




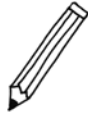






La macchina è a _____.

Il libro è a _____.

L'albero è a _____.

15

Osserva gli oggetti sul reticolo. Scrivi le coordinate.

	A	B	C	D	E	F
1						
2						
3						
4						
5						
6						
7						



si trova in



si trova in



si trova in



si trova in



si trova in



si trova in



si trova in



si trova in



si trova in



si trova in

16

Leggi le istruzioni e completa la mappa del tesoro.

Scrivi:

la **nave** dei pirati in A3

le **chiavi** in E7

la **bottiglia** con la mappa in G2

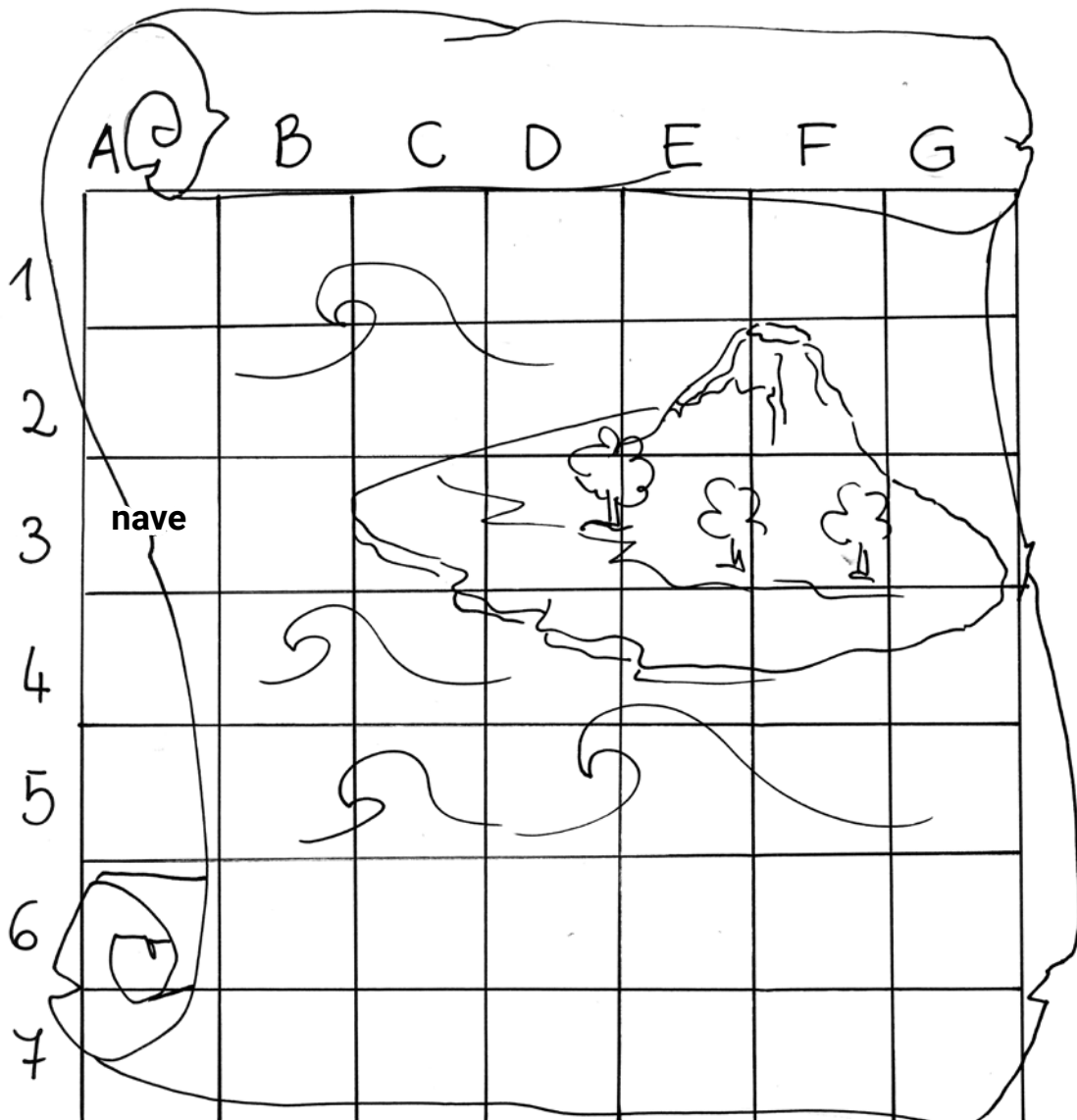
l'**uncino** in B6

la **pistola** in F5

il **cappello** in C4

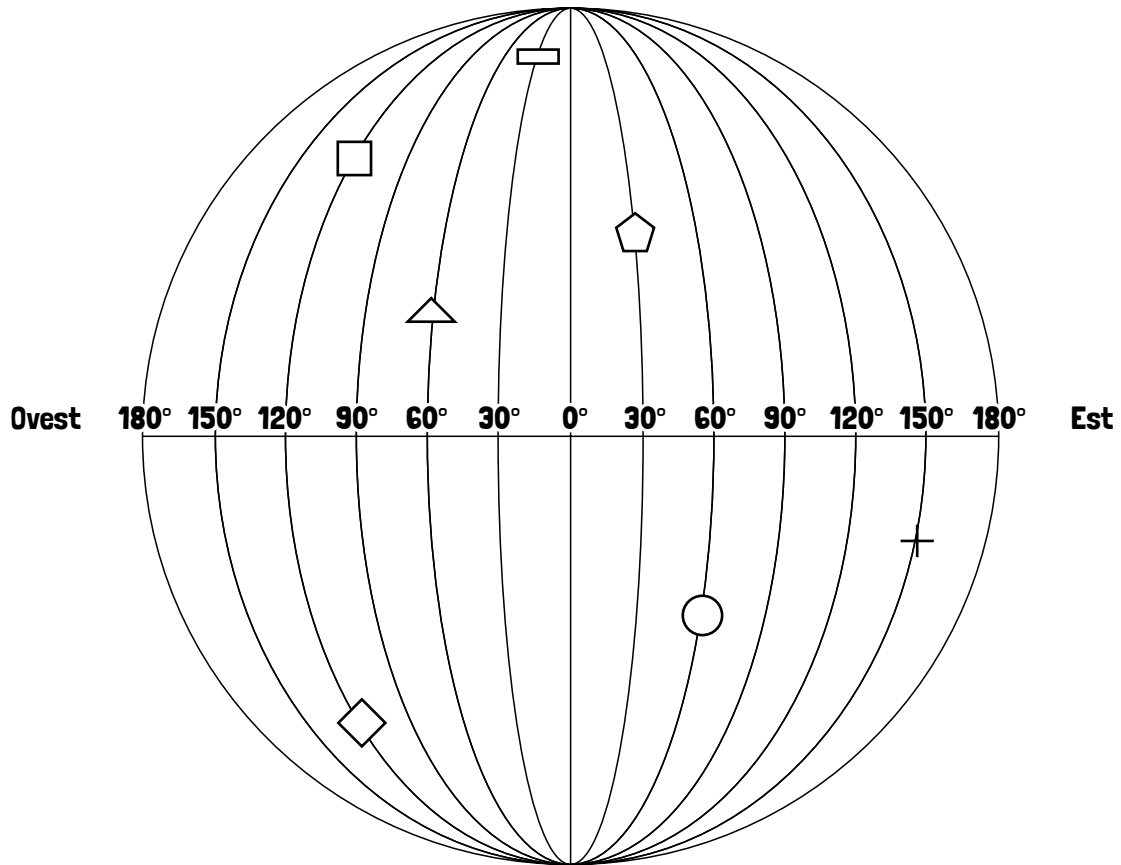
la **pipa** in A1

il **tesoro** in D3



17

Seguendo gli esempi completa cercando la longitudine.



Longitudine del \square = 120° O (= 120 gradi Ovest)

Longitudine del \triangle = 60° O (= 60 gradi Ovest)

Longitudine del $+$ = _____

Longitudine del \diamond = _____

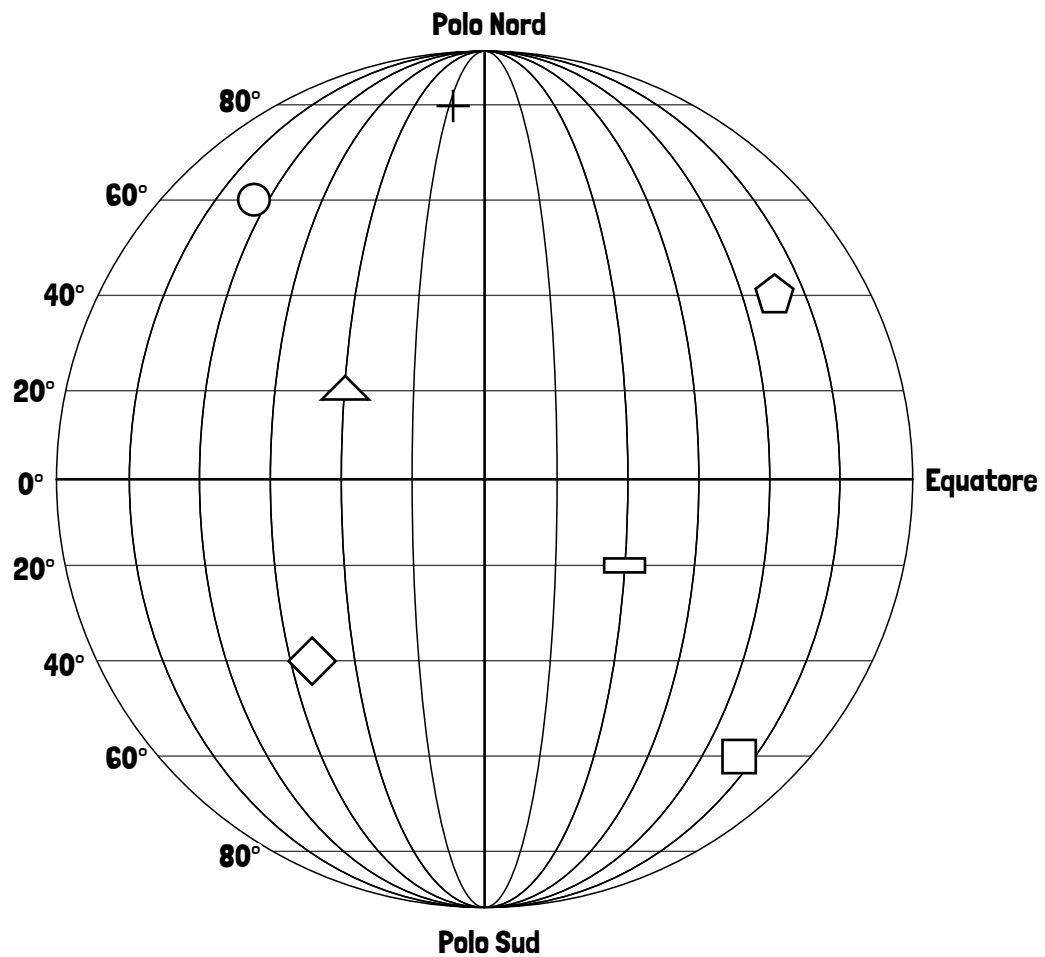
Longitudine del \pentagon = _____

Longitudine del rectangle = _____

Longitudine del \circ = _____

18

Seguendo gli esempi completa cercando la latitudine.



Latitudine del \square = 60° S (= 60 gradi Sud)

Latitudine del \triangle = 20° N (= 20 gradi Nord)

Latitudine del $+$ = _____

Latitudine del \diamond = _____

Latitudine del \pentagon = _____

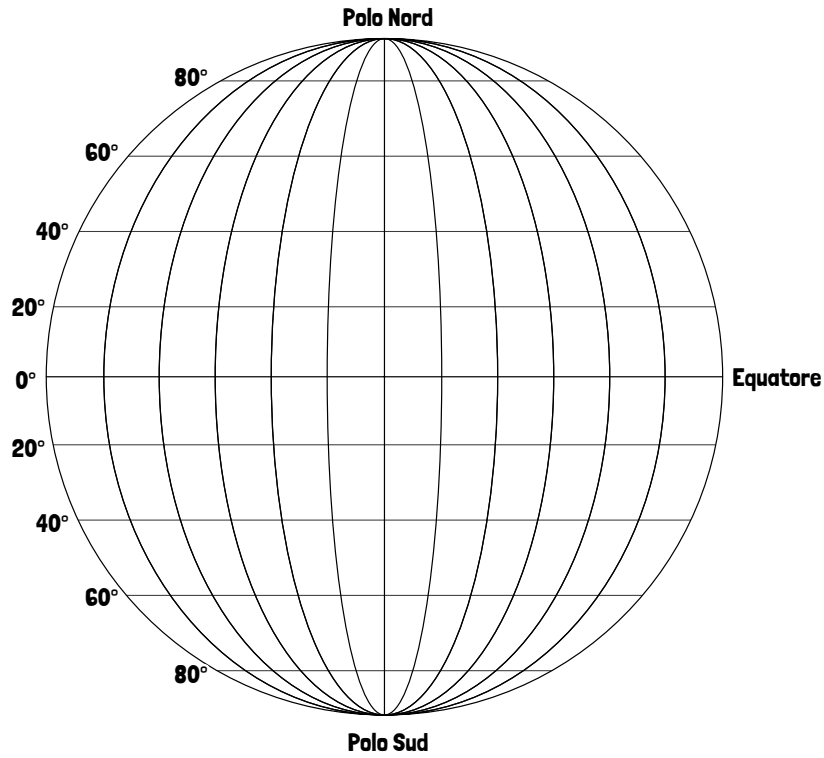
Latitudine del \square = _____

Latitudine del \circ = _____

19

Ascolta le indicazioni e scrivi le lettere.

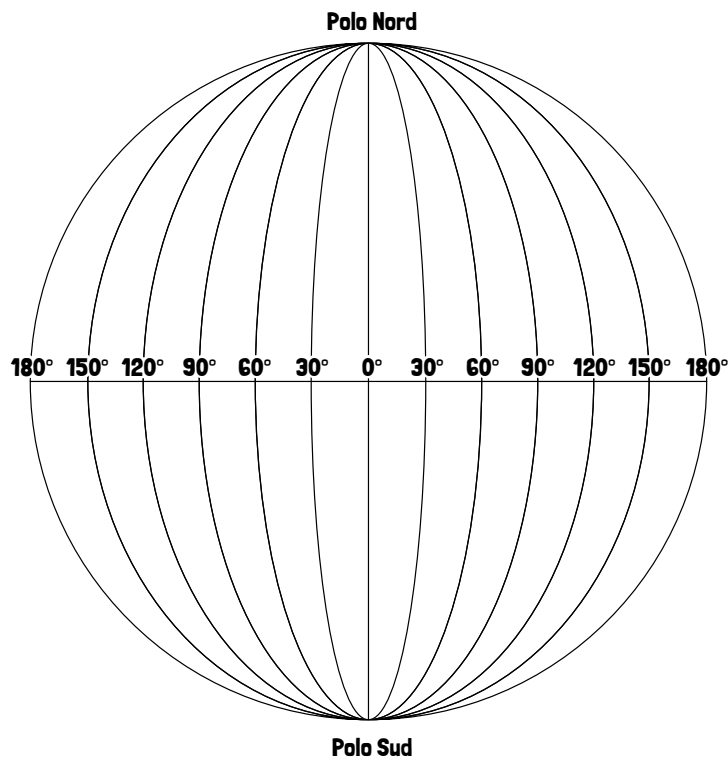
<https://s.blikk.it/3686>



20

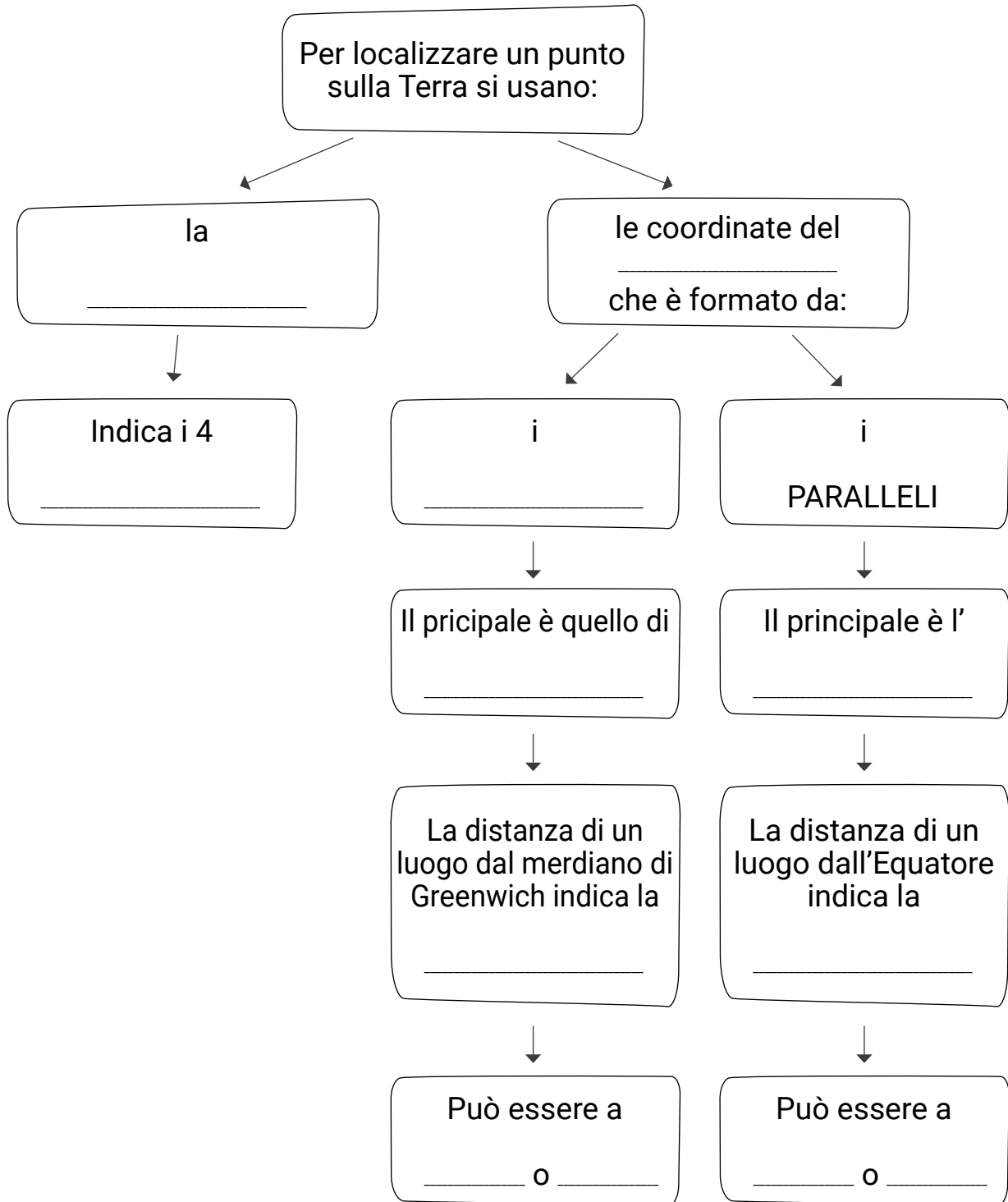
Ascolta le indicazioni e scrivi le lettere.

<https://s.blikk.it/3687>



21

Completa la mappa utilizzando le parole elencate sotto.



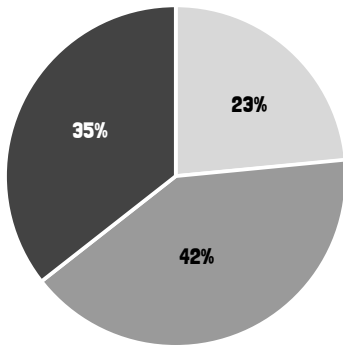
Greenwich / Nord / reticolo geografico / longitudine / equatore / Est / Sud / bussola / Ovest / punti cardinali / meridiani / latitudine

Unità 2


L'Italia

1

Osserva come è distribuito il paesaggio in Italia. Inserisci nei quadretti le lettere secondo le indicazioni



- pianura (P)
- collina (C)
- montagna (M)



1% = 1 quadretto

2

Leggi e metti una crocetta accanto alla parola intrusa.

Paesaggio di montagna

- cima
- catena montuosa
- spiaggia
- capriolo

Paesaggio di mare

- isola
- lago alpino
- spiaggia
- scoglio

Paesaggio di pianura

- prato
- ortaggi
- fiume
- ghiacciaio

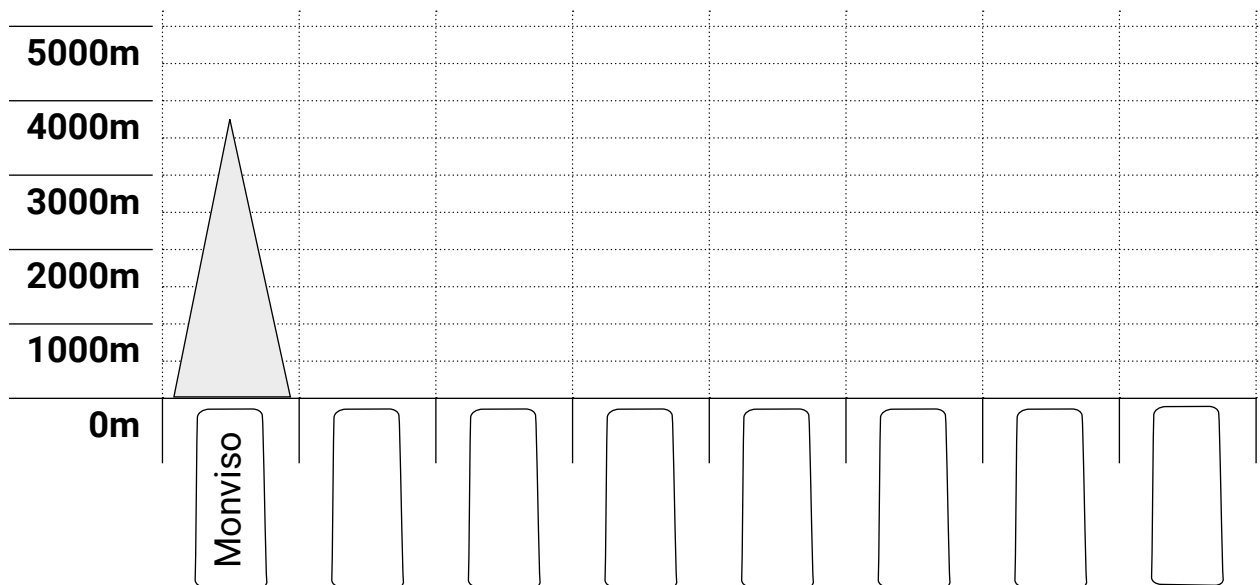


Cerca su una carta fisica dell'Italia le montagne indicate e scrivi vicino al nome la relativa altezza.

montagna	altezza in metri	montagna	altezza in metri
Monviso	<input type="text"/>	Monte Rosa	<input type="text"/>
Gran Paradiso	<input type="text"/>	Ortles	<input type="text"/>
Monte Bianco	<input type="text"/>	Marmolada	<input type="text"/>
Gran Sasso d'Italia	<input type="text"/>	Etna	<input type="text"/>



Adesso disegna queste montagne, come nell'esempio. Poi rispondi alle domande.



Quali di queste montagne non fanno parte delle Alpi?

Quali cime superano i 4000 m?

5

Leggi le frasi. Segna con una "A" le frasi sulle Alpi e con una "B" quelle sugli Appennini.

B

Le cime sono arrotondate.



La loro lunghezza è di circa 1200 km.



Dividono l'Italia dagli altri Stati europei.



Si dividono in: settentrionale, centrale, meridionale.



Attraversano tutto lo stivale.



La cima più alta è il Monte Bianco.



Le cime sono alte e appuntite.



Sono un confine naturale.



Alcune cime superano i 4000 metri di altezza.

6

Guarda queste foto e osserva l'altezza e la forma delle cime. Scrivi sotto ogni immagine se sono Alpi o Appennini.



Gran Sasso



Gran Paradiso



Adamello



Pollino

7

Leggi il testo. Poi scrivi nella mela cosa si coltiva in pianura, nella pecora gli animali allevati in pianura e nella fabbrica cosa si produce.


Le pianure sono ideali per l'agricoltura. In pianura si possono coltivare cereali (grano, mais, riso), ortaggi (zucchine, melanzane, insalata, carote), alberi da frutto (albicocche, prugne, pesche) e anche il fieno da dare agli animali.

In pianura ci sono molti allevamenti di animali, soprattutto di bovini (mucche), suini (maiali) e pollame (galline).

In pianura è comodo trasportare le merci, cioè i prodotti da vendere.

Per questo motivo ci sono molte industrie: quelle meccaniche (producono automobili, elettrodomestici), quelle di vestiti e scarpe, quelle di mobili, e tante altre.

In pianura vivono molte persone e ci sono grandi città.



8

Colora in arancione i fiumi che nascono dalle Alpi e in verde i fiumi che nascono dagli Appennini.



9

Cerca sulla carta fisica i fiumi che entrano nel Po e scrivi 5 nomi.

10

Guarda il disegno e scrivi il nome dei mari italiani.



11

Scegli la parola corretta.

Quando le montagne arrivano fino al mare la costa è alta e ...

sabbiosa.

rocciosa.

Quando la costa è bassa il terreno é ...

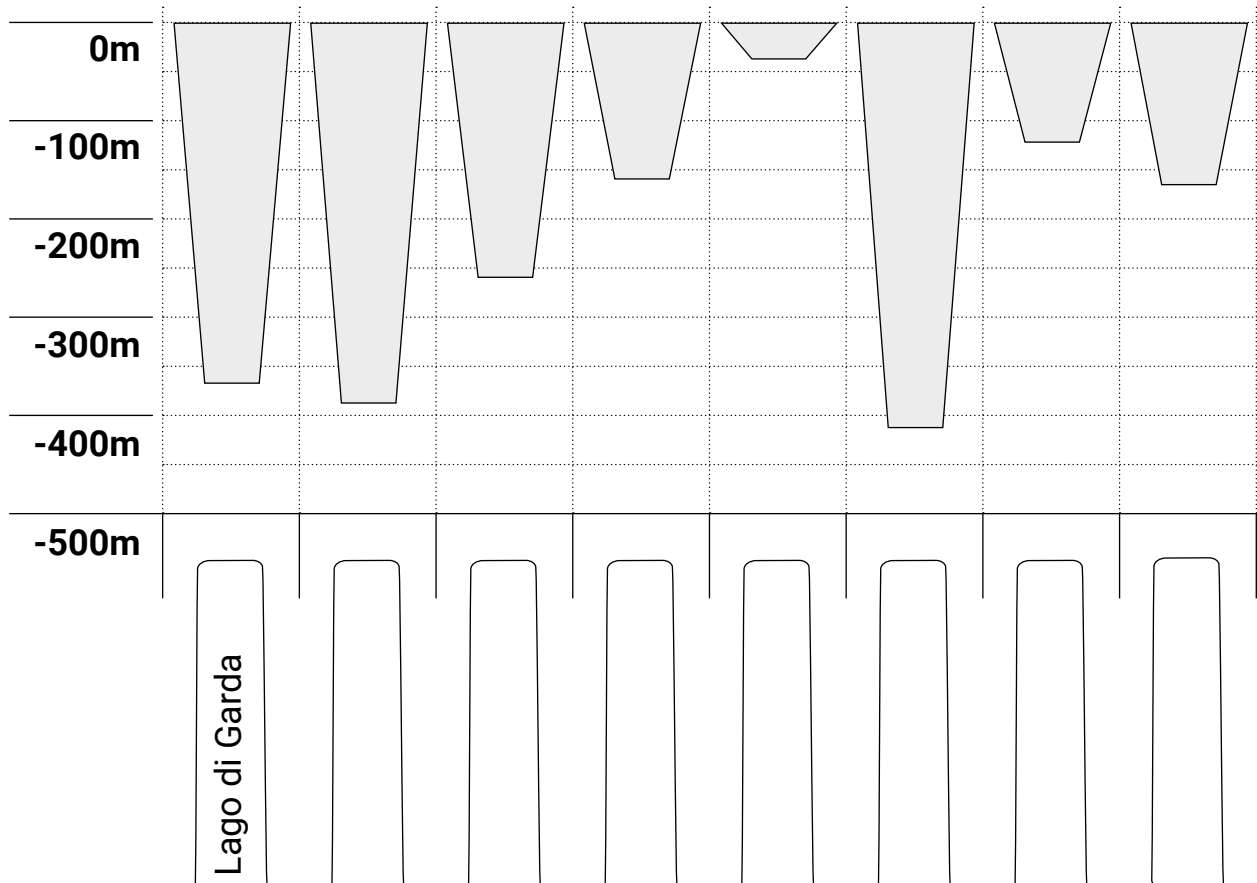
sabbioso.

roccioso.

12

Leggi i dati sulla profondità di alcuni laghi d'Italia.
Poi scrivi il nome del lago nella tabella sotto il disegno giusto.

Lago	Regione	Prof. (m)
Lago di Como	Lombardia	410
Lago Maggiore	Piemonte, Lombardia, Svizzera	370
Lago di Garda	Lombardia, Veneto, Trentino-A. Adige	365
Lago d'Iseo	Lombardia	251
Lago di Bracciano	Lazio	160
Lago di Bolsena	Lazio	151
Lago di Molveno	Trentino-Alto Adige	123
Lago di Braies	Trentino-Alto Adige	36



13

Ascolta e inserisci le lettere nei triangoli .

<https://s.blikk.it/3688>



“A” --> vulcani attivi “Q” --> vulcani quiescenti “S” --> vulcani spenti



14

Scrivi le informazioni che ricordi dopo aver ascoltato.

15


Leggi le domande e scrivi le risposte nel cruciverba della pagina seguente.

Orizzontali:

1. Quale Stato europeo ha la forma di uno stivale?
4. Le coste possono essere rocciose o...
7. Le "montagne" più basse di 600 m si chiamano...
9. Come si chiama il vulcano che si trova vicino a Napoli?
11. La pianura più grande e importante d'Italia è la Pianura...
12. L'Italia ha circa 8.000 km di...
14. È lungo 652 km.
16. Quale mare grande si trova a Ovest dell'Italia?
18. Come si chiama la catena montuosa a Nord della Pianura Padana?
19. È il lago più grande d'Italia.
20. È il vulcano più alto d'Italia, si trova in Sicilia.

Verticali:

2. Quale catena montuosa attraversa l'Italia?
3. Come si chiama la montagna più alta d'Italia?
5. È il mare che si trova a Est dell'Italia.
6. Quale mare si trova a Sud-Est dell'Italia?
8. È una delle due isole più grandi d'Italia, si trova molto a Sud.
10. L'Italia è una a forma di stivale.
13. Qual è il secondo fiume più lungo d'Italia?
15. È una delle due isole più grandi d'Italia, si trova molto ad Ovest.
17. Quale mare si trova a Nord-Ovest dell'Italia?



16

Colora in rosso le regioni dell'Italia Settentrionale, in giallo quelle dell'Italia Centrale e in blu quelle dell'Italia Meridionale/Insulare.



17

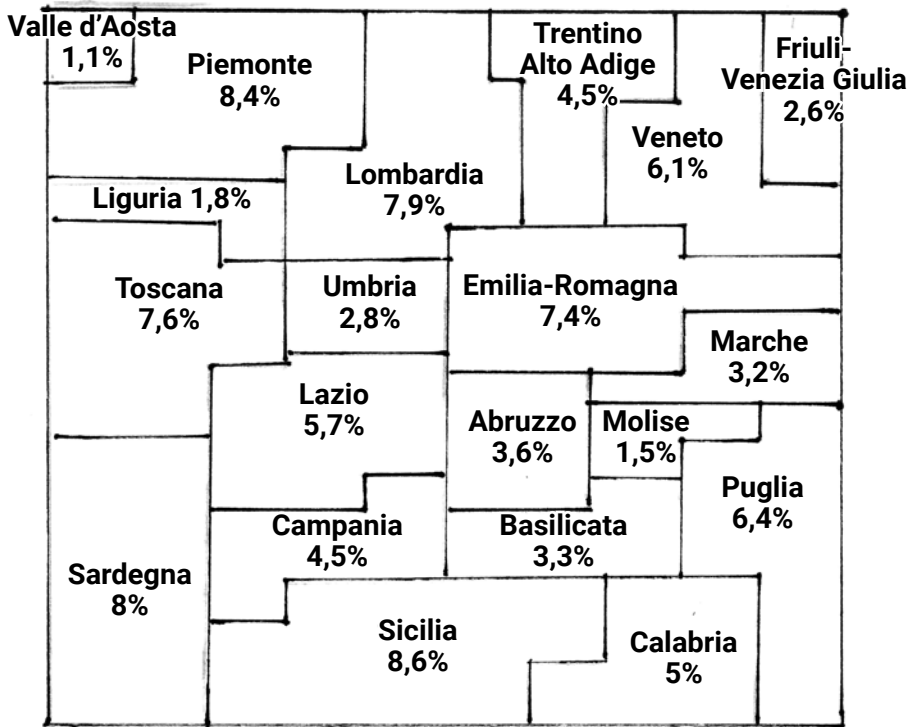
Guarda la cartina dell'Italia e completa la tabella.



	Regione	Capoluogo
1		
2		
3		
4		
5		
6		
7		
8		
9		
10		
11		
12		
13		
14		
15		
16		
17		
18		
19		
20		

18

Guarda lo schema e scrivi le prime 6 regioni in ordine, dalla più grande alla più piccola, in base alla grandezza del territorio.



- Al 1° posto c'è la

- Al 2° posto c'è la

- Al 3° posto c'è la

- Al 4° posto c'è la

- Al 5° posto c'è la

- Al 6° posto c'è la

19

Osserva la carta politica dell'Italia. Completa le frasi con i punti cardinali: Nord, Sud, Est, Ovest.

- Genova si trova a _____ di Cagliari.
- Napoli si trova a _____ di Bari.
- Torino si trova a _____ di Cagliari.
- Trieste si trova a _____ di Napoli.
- Trento si trova a _____ di Bolzano.
- Venezia si trova a _____ di Verona e Milano.
- Bari si trova a _____ di Napoli.

20

Scegli uno dei tre viaggi. Leggi con un compagno le tappe del percorso e poi scrivete il diario del viaggio nel quaderno.

Partenza: Bolzano

Arrivo: Ancona

Tappe obbligatorie:

1 lago, 1 monumento, 2 città,
1 vulcano

Attività: visitare un museo,
mangiare qualcosa di locale

Partenza: Como

Arrivo: Cagliari

Tappe obbligatorie:

1 fiume, 1 vulcano, 2 capoluoghi,
1 regione bagnata dal mare

Attività: visitare una chiesa,
scoprire una curiosità

Partenza: Palermo

Arrivo: Venezia

Tappe obbligatorie:

1 monte, 1 Stato indipendente,
1 golfo

Attività: visitare un monumento,
mangiare qualcosa di locale

21

Prepara l'itinerario di viaggio per un tuo compagno. Poi lui ti racconta il suo diario di viaggio.

22

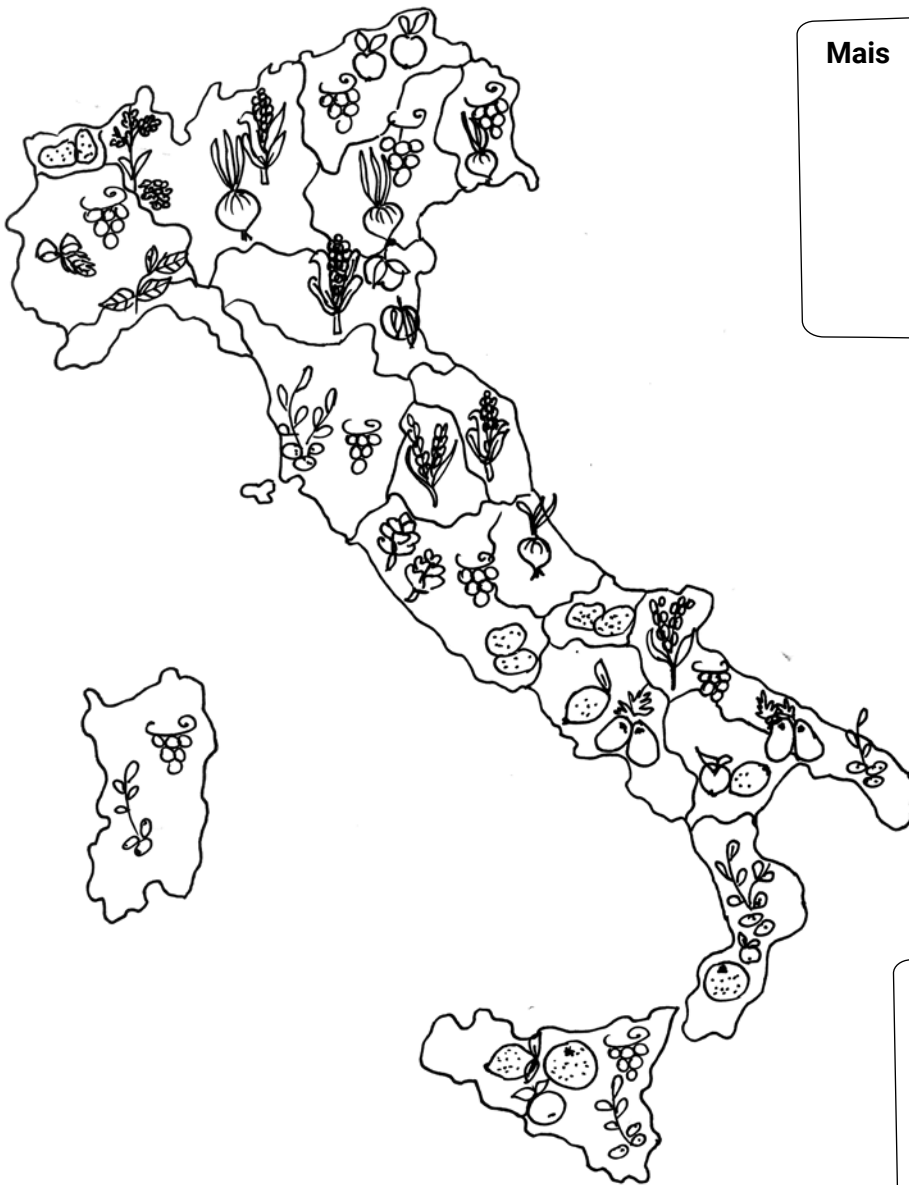
Leggi la tabella delle 10 città italiane con più abitanti. Poi riscrivi i nomi delle città mettendole in ordine per numero maggiore di abitanti e scrivi anche la regione in cui si trovano.

Città	Abitanti
Milano	1.366.180
Catania	311.620
Bologna	389.261
Roma	2.872.800
Torino	882.523
Palermo	668.405
Firenze	380.948
Bari	323.370
Genova	580.097
Napoli	966.144

	Città	Abitanti	Regione
1°	Roma	2.872.800	Lazio
2°			
3°			
4°			
5°			
6°			
7°			
8°			
9°			
10°			

23

Osserva la carta tematica. Completa le tabelle con i nomi delle regioni in cui si coltivano i prodotti indicati.



Mais

Patate e pomodori

Agrumi e olive

Barbabietole da zucchero



Uva



Nocciole



Pomodori



Pesche



Olive



Basilico



Agrumi



Patate



Grano



Riso



Mele



Barbabietole



Mais

24

Ascolta e scrivi il nome della regione o della città.

<https://s.bliikk.it/3689>



25

Associa il numero alle etichette.



Duomo di Milano

Torre di Pisa

Colosseo

Vulcano Etna

Le Dolomiti

Nuraghe

Torre degli Asinelli

26

Scrivi il numero e completa le frasi come nell'esempio.

-
- | | |
|------------------------------|---|
| 1 L'Italia è un paese | <input type="checkbox"/> vanno al mare o al lago. |
|------------------------------|---|
-
- | | |
|----------------------------------|--|
| 2 In estate molte persone | <input type="checkbox"/> anche in estate per passeggiare e stare nella natura. |
|----------------------------------|--|
-
- | | |
|--|---|
| 3 Il mare delle regioni del sud e delle isole | <input type="checkbox"/> è soprannominata il "Bel Paese". |
|--|---|
-
- | | |
|-------------------------------|---|
| 4 In inverno i turisti | <input type="checkbox"/> Roma, Firenze, Venezia, Napoli e Pisa. |
|-------------------------------|---|
-
- | | |
|---|--|
| 5 A molte persone piace andare in montagna | <input type="checkbox"/> è trasparente e pulito. |
|---|--|
-
- | | |
|--|---|
| 6 Molti turisti italiani e stranieri visitano | <input type="checkbox"/> chiese, musei e monumenti antichi. |
|--|---|
-
- | | |
|---------------------------------------|---------------------------|
| 7 Importanti città d'arte sono | 1 molto turistico. |
|---------------------------------------|---------------------------|
-
- | | |
|---|---|
| 8 Per tutti questi motivi l'Italia | <input type="checkbox"/> vanno a sciare sulle Alpi. |
|---|---|
-

27

Ascolta e poi completa il testo con le parole che mancano.

<https://s.blikk.it/3690>



L'Italia è uno stato dell'_____.

L'Italia confina a Nord Ovest con la Francia, a Nord con la Svizzera e l'Austria e a Nord Est con la _____.

L'Italia si divide in quattro parti: l'Italia del Nord, chiamata Italia Settentrionale l'Italia del Centro, chiamata Italia _____, l'Italia del Sud, chiamata Italia Meridionale e l'Italia formata dalle due isole Sicilia e Sardegna, chiamata Insulare

In Italia ci sono 20 regioni e 20 _____.

Roma è la capitale d'Italia.

L'Italia è una Repubblica. La festa della Repubblica si festeggia il_____.

In Italia ci sono due piccoli Stati: lo Stato del Vaticano e la Repubblica di San Marino.

Se hai bisogno di aiuto, guarda queste parole:

Centrale, 2 giugno, Slovenia, capoluoghi, Europa

28

Il Trentino - Alto Adige.**Colora la regione nella cartina dell'Italia e completa la tabella.****Si trova nell'Italia**

- settentrionale
- centrale
- meridionale
- insulare

Confina

A nord con

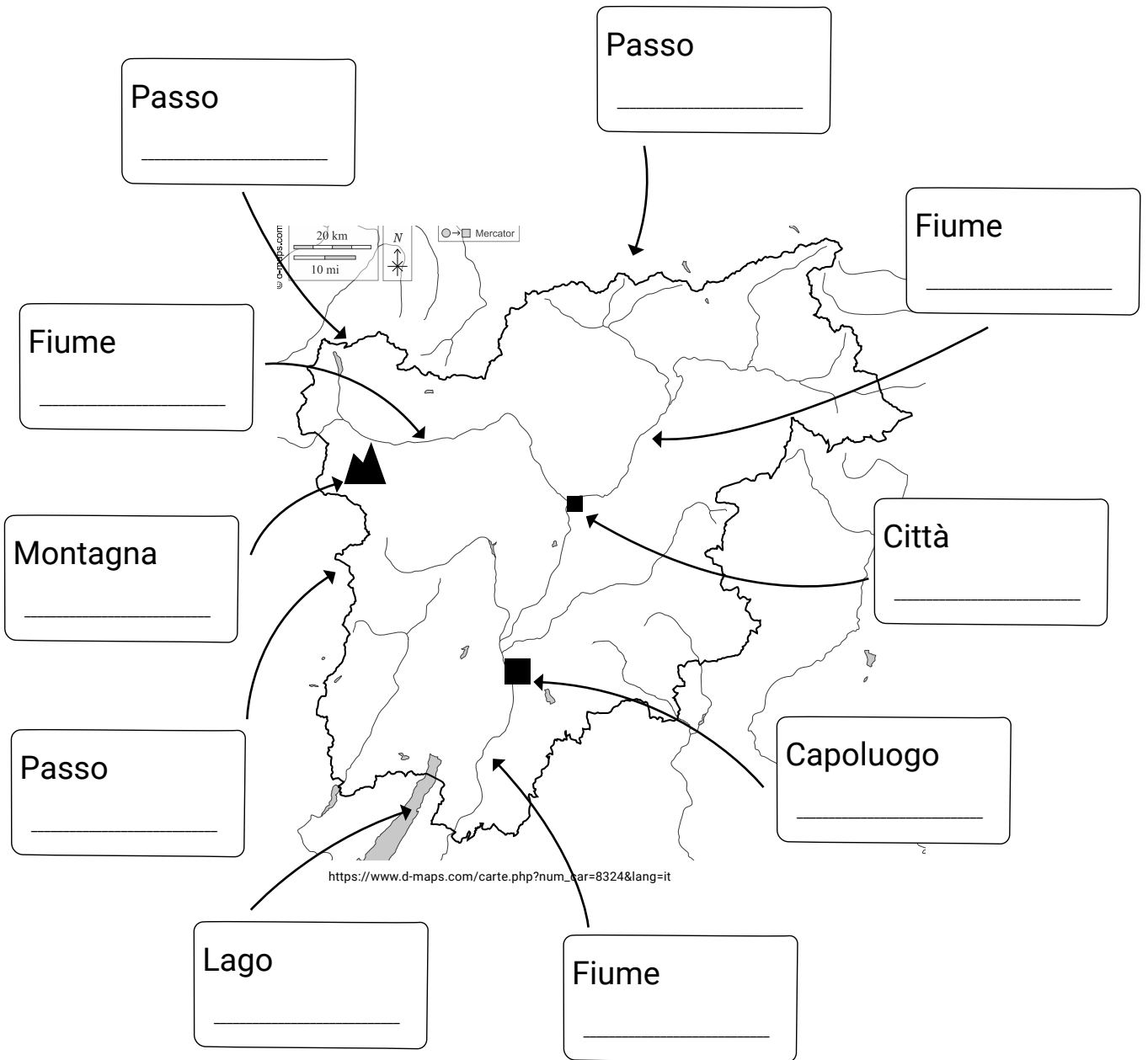
A est con

A sud con

A ovest con

29

Scrivi i nomi dei principali elementi della regione.



30

Completa la carta d'identità della tua regione. Puoi usare il manuale, un atlante, una carta geografica o cercare informazioni in Internet.

Capoluogo _____

Altre città _____

Confini _____

Fiumi _____

Laghi _____

Montagne _____

Principali attività (agricoltura, allevamento, industria...)

Musei o monumenti

Piatti tipici

Curiosità

Unità 3

Il mondo

1

Vero o falso? Metti una corcetta nella colonna giusta.

	VERO	FALSO
1. Il clima è l'insieme dei fenomeni atmosferici caratteristici di un certo territorio osservati nei diversi periodi dell'anno e per un lungo periodo	D	S
2. La pioggia e l'umidità sono elementi del clima.	M	L
3. Vicino all'Equatore fa molto freddo.	P	T
4. L'altitudine misura quanto un posto è alto sul livello del mare.	E	U
5. Il clima dipende solo dalla latitudine.	B	R
6. Il clima dipende dalla latitudine, dall'altitudine, dalla vicinanza al mare e dalla presenza di montagne.	I	V
7. Più sali in montagna più senti caldo.	H	R
8. L'Equatore indica la zona più calda della Terra.	E	G
9. Vicino al mare in inverno fa molto freddo.	Z	A
10. Le montagne non sono importanti per il clima.	P	E
11. L'Italia ha una forma lunga e stretta.	N	S
12. Il clima in Italia è uguale in tutte le zone.	U	O

Guarda le lettere che hai barrato. Scrivi le lettere nel giusto ordine e rispondi alla domanda. Aiutati con i numeri.

Come è il clima in Sicilia?

<input type="text"/>	<input type="text"/>	<input type="text" value="D"/>	<input type="text"/>	<input type="text"/>	<input type="text"/>	<input type="text"/>	<input type="text"/>	<input type="text"/>	<input type="text"/>	<input type="text"/>	<input type="text"/>
2	8	1	6	3	4	7	5	9	11	10	12

2

Leggi il clima in Italia.

L'Italia si trova al centro del Mar Mediterraneo: in estate fa caldo e in inverno non fa tanto freddo.

Infatti, molte zone sono vicine al mare e le Alpi proteggono l'Italia dai venti freddi del Nord.

L'Italia ha una forma lunga e stretta: ci sono zone più vicine all'Equatore, altre più lontane. Ci sono zone di montagna, di pianura, di collina e zone costiere.

3

Con l'aiuto di una carta colora la carta del clima.

Racconta come è il clima in Italia e quali sono i fattori che influenzano il clima.



- alpino
- padano
- adriatico
- appenninico
- tirrenico
- mediterraneo

4

Rispondi alle domande.

Come è il clima dove vivi?

Come è il clima dove vai in vacanza?

5

Ascolta e completa la tabella.

<https://s.blikk.it/3691>



	Continente	Stato	Altre informazioni
Il luogo più piovoso			
Il luogo più caldo			
Il luogo più arido			
Il luogo più freddo			
Il luogo più umido			

6

Parla con un compagno. Insieme cercate i luoghi dell'attività 5 sul planisfero.

7

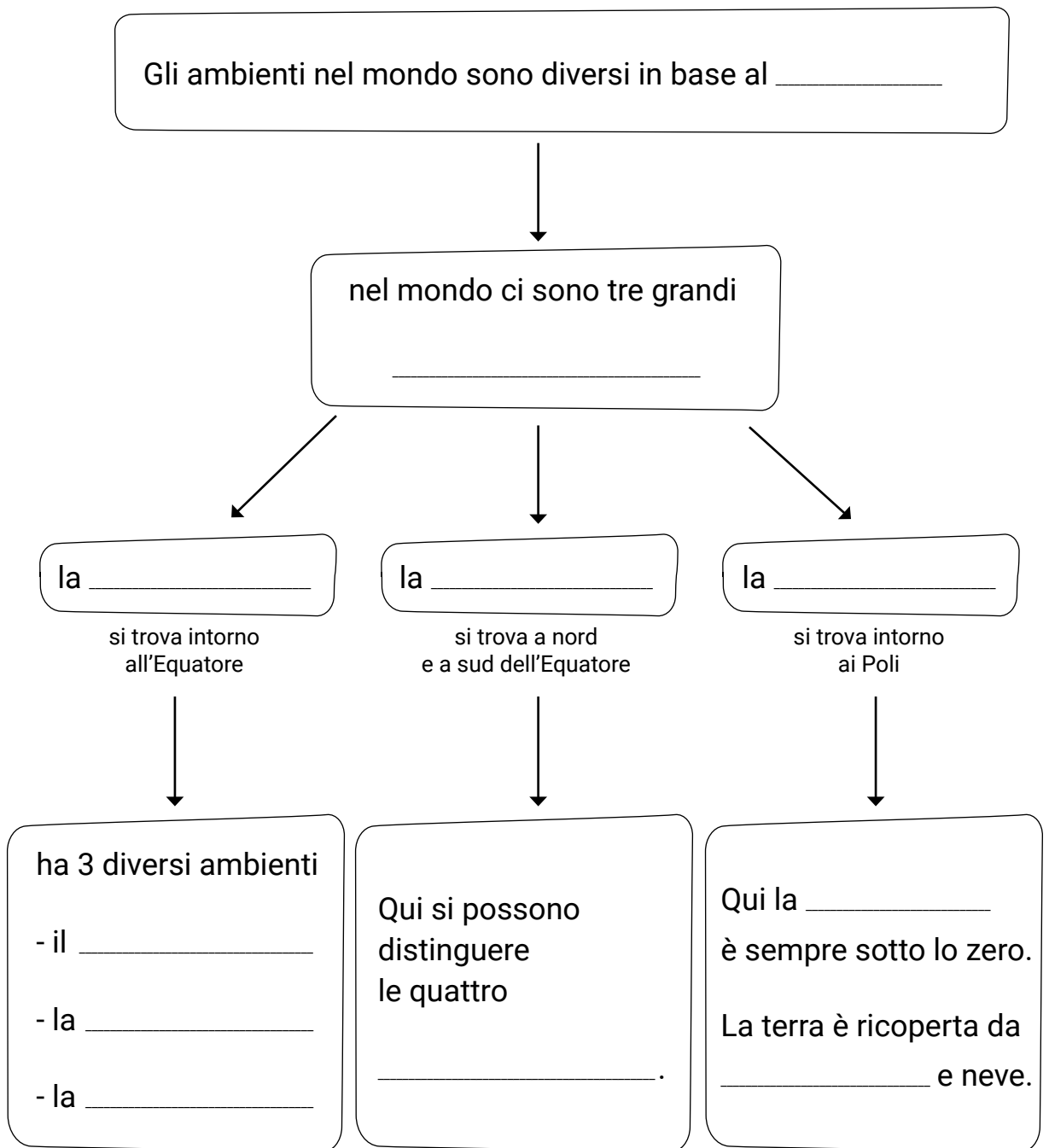
Inserisci nella mappa queste parole:

temperatura
zona temperata
foresta tropicale

deserto
savana
ghiaccio




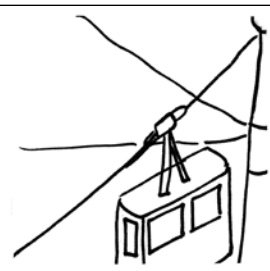
zona polare
stagioni
zona torrida

clima
zone climatiche



8

Segna con una crocetta le tue risposte nella colonna A. Poi, fai le domande a un compagno e segna le sue risposte nella colonna B.

		A	B	
	Perché l'uomo costruisce un ponte?	Perché ha tanto materiale per costruire.	<input type="checkbox"/>	<input type="checkbox"/>
		Per attraversare il fiume in poco tempo.	<input type="checkbox"/>	<input type="checkbox"/>
		Per pescare comodamente.	<input type="checkbox"/>	<input type="checkbox"/>
	Perché l'uomo costruisce l'autostrada?	Per andare velocemente da un posto all'altro.	<input type="checkbox"/>	<input type="checkbox"/>
		Per fare delle gare con le macchine.	<input type="checkbox"/>	<input type="checkbox"/>
		Per rendere più bello il paesaggio.	<input type="checkbox"/>	<input type="checkbox"/>
	Perché l'uomo costruisce la galleria?	Perché è divertente guidare al buio.	<input type="checkbox"/>	<input type="checkbox"/>
		Per ripararsi quando piove.	<input type="checkbox"/>	<input type="checkbox"/>
		Per passare in poco tempo dall'altra parte della montagna.	<input type="checkbox"/>	<input type="checkbox"/>
	Perché l'uomo costruisce la funivia?	Per vedere meglio il panorama.	<input type="checkbox"/>	<input type="checkbox"/>
		Per salire facilmente in cima alla montagna.	<input type="checkbox"/>	<input type="checkbox"/>
		Per non fare camminare le persone nel bosco.	<input type="checkbox"/>	<input type="checkbox"/>

Quante risposte sono uguali?

9

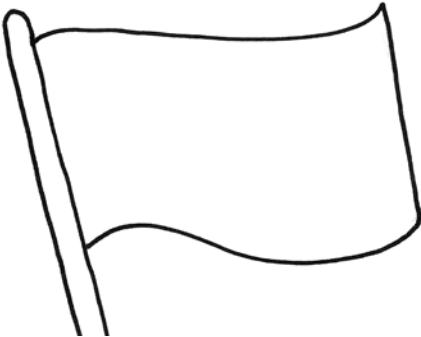
Scegli 4 Stati dell'Europa e completa le informazioni.

Nome: _____

Capitale: _____

Lingua: _____

Bandiera:

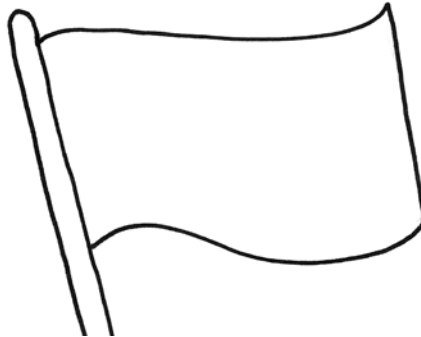


Nome: _____

Capitale: _____

Lingua: _____

Bandiera:

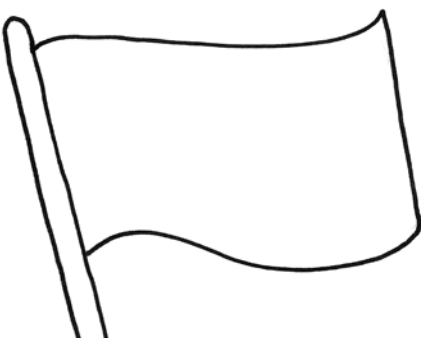


Nome: _____

Capitale: _____

Lingua: _____

Bandiera:

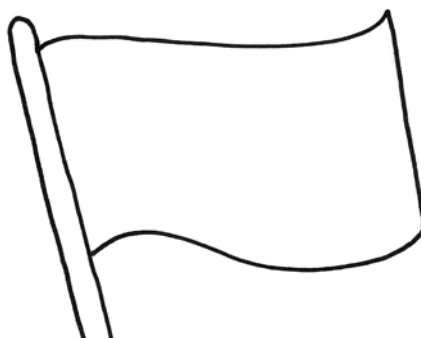


Nome: _____

Capitale: _____

Lingua: _____

Bandiera:



10

Ricerca e colora gli Stati che appartengono all'Unione Europea.
Disegna il simbolo € sugli Stati che usano l'Euro.



https://www.d-maps.com/carte.php?num_car=2233&lang=it

Austria	Estonia	Italia	Polonia	Spagna
Belgio	Finlandia	Lettonia	Portogallo	Svezia
Bulgaria	Francia	Lituania	Rep. Ceca	Ungheria
Cipro	Germania	Lussemburgo	Romania
Croazia	Grecia	Malta	Slovacchia
Danimarca	Irlanda	Paesi Bassi	Slovenia

11

Ricerca e segna sulla carta dell'Asia dove si trovano questi elementi:

Monti Urali
Mar Caspio
Pechino

Oceano Indiano
Monte Everest
Tokyo

Oceano Pacifico
Fossa delle Marianne



https://d-maps.com/m/world/centreeurope_it/centreeurope_it26.pdf

12

Ascolta e prendi appunti. Scrivi altre informazioni sull'Asia, poi confrontati con un compagno.

<https://s.bliikk.it/3692>



13

Ricerca e completa la carta d'identità di un animale tipico dell'Africa.

Nome comune: _____

Nome scientifico: _____

Colore: _____

Numero di zampe: _____

Altezza: _____

Peso: _____

Movimento
(cammina, vola, nuota...) _____

Tipo di manto
(pelo, piume...) _____

Alimentazione: _____

Habitat: _____

Altre informazioni
importanti: _____

Foto o disegno: _____

14

Segna con una crocetta l'Oceania e scrivi alcune informazioni.



https://www.d-maps.com/carte.php?num_car=3267&lang=it

15

Leggi le frasi e metti una crocetta sulla parola giusta.

**L'Antartide
è il continente più**

- freddo.
 caldo.

**Gli scienziati vanno in
Antartide per fare**

- le ricerche.
 le ferie.

**L'Antartide
comprende il**

- Polo Nord.
 Polo Sud.

**In Antartide ci sono tante
specie di animali tra cui**

- le farfalle.
 le balene.

**In Antartide la temperatura
può arrivare fino a**

- 99°.
 -89°.

17

Ascolta le informazioni sul Nord America e colora la risposta giusta.

<https://s.blikk.it/3693>



1. Il Nord America è diviso in

23 regioni

33 Stati

23 Stati

2. Gli Stati Uniti sono lo Stato del Nord America

più lungo

più piccolo

più ricco

3. La bandiera degli Stati Uniti ha

50 stelle

15 stelle

5 stelle

4. La città più grande degli Stati Uniti è

Chicago

Los Angeles

New York

5. La statua simbolo di questa città si chiama



Statua della Felicità

Statua della Libertà

Statua dell'Amicizia

18

Leggi il testo e scrivi le parole che mancano.

Ciao! Mi chiamo Miguel e ho 10 anni. Io abito nello Stato più grande del Sud America, il _____.

Nel mio Paese si parlano 5 _____: lo spagnolo, il portoghese, l'inglese, l'olandese e il francese.

La capitale del mio Paese è _____. A nord del mio Paese c'è una grande foresta che si chiama _____.

Questa foresta è molto importante per il nostro pianeta: qui vivono gli Indios e anche molte specie di _____.

Il Rio delle Amazzoni è il _____ che scorre in Amazzonia.

19

Cerca dove vivono i seguenti animali. Fai una crocetta nella tabella sui continenti dove vivono, come nell'esempio.

	tigre	leone	koala	foca	canguro	orso	lupo	echidna	alce
NORD AMERICA	<input type="checkbox"/>	<input type="checkbox"/>	<input type="checkbox"/>	<input type="checkbox"/>	<input type="checkbox"/>	<input type="checkbox"/>	<input type="checkbox"/>	<input type="checkbox"/>	<input type="checkbox"/>
SUD AMERICA	<input type="checkbox"/>	<input type="checkbox"/>	<input type="checkbox"/>	<input type="checkbox"/>	<input type="checkbox"/>	<input type="checkbox"/>	<input type="checkbox"/>	<input type="checkbox"/>	<input type="checkbox"/>
EUROPA	<input type="checkbox"/>	<input type="checkbox"/>	<input type="checkbox"/>	<input type="checkbox"/>	<input type="checkbox"/>	<input type="checkbox"/>	<input type="checkbox"/>	<input type="checkbox"/>	<input type="checkbox"/>
AFRICA	<input type="checkbox"/>	<input type="checkbox"/>	<input type="checkbox"/>	<input type="checkbox"/>	<input type="checkbox"/>	<input type="checkbox"/>	<input type="checkbox"/>	<input type="checkbox"/>	<input type="checkbox"/>
ASIA	<input checked="" type="checkbox"/>	<input type="checkbox"/>	<input type="checkbox"/>	<input type="checkbox"/>	<input type="checkbox"/>	<input type="checkbox"/>	<input type="checkbox"/>	<input type="checkbox"/>	<input type="checkbox"/>
ANTARTIDE	<input type="checkbox"/>	<input type="checkbox"/>	<input type="checkbox"/>	<input type="checkbox"/>	<input type="checkbox"/>	<input type="checkbox"/>	<input type="checkbox"/>	<input type="checkbox"/>	<input type="checkbox"/>
OCEANIA	<input type="checkbox"/>	<input type="checkbox"/>	<input type="checkbox"/>	<input type="checkbox"/>	<input type="checkbox"/>	<input type="checkbox"/>	<input type="checkbox"/>	<input type="checkbox"/>	<input type="checkbox"/>

Confronta la tua tabella con quella dei compagni

20


Rispondi alle domande sui sette continenti e completa il cruciverba.

Orizzontali:

3. Com'è il clima dell'Africa del Nord?
10. Come si chiama la linea che divide a metà la terra?
11. Il Sahara è un
12. Come si chiama la foresta più grande del mondo?
13. È il nome di un uccello australiano che non vola ed è anche il nome di un frutto.
14. Quanti Stati fanno parte degli Stati Uniti d'America?

Verticali:

1. Il continente dove si trova il Polo Sud è....
2. Il canguro e il vombato sono due animali
4. In quale continente si trova il monte Everest?
5. Come si chiama lo Stato del Sud America più grande e più popolato?
6. Quale continente confina con l'Asia?
7. Come sono i ghiacciai del Polo Nord?
8. Come si chiamano i monti che dividono l'Europa dall'Asia?
9. È il continente più piccolo della Terra.



Oltre la lezione di Italiano Geografia



Ripartizione
pedagogica