

## A3 Die Teilung Deutschlands

- 1) Lies dir zuerst die Informationsblätter zur Berliner Mauer gründlich durch. Erst dann kannst du den Arbeitsauftrag erledigen. Um Daten zu erklären, kannst du auch die Zeitleiste des Geschichtsbuches *Zeitreise 3, Ausgabe für Südtirol, Klettverlag, 2013, S. 178–179* verwenden.

Wann, weshalb und wie wurde Deutschland geteilt? (3 Punkte)

- .....
- .....
- .....



Trage die Namen der zwei deutschen Staaten ein.

Wikipedia, Berlin - Frage

[https://de.wikipedia.org/wiki/Berlin-Frage#/media/File:Deutschland\\_Bundeslaender\\_1957.png](https://de.wikipedia.org/wiki/Berlin-Frage#/media/File:Deutschland_Bundeslaender_1957.png)

letzter Zugang 29.09.2016



Beschrifte die Stadtteile

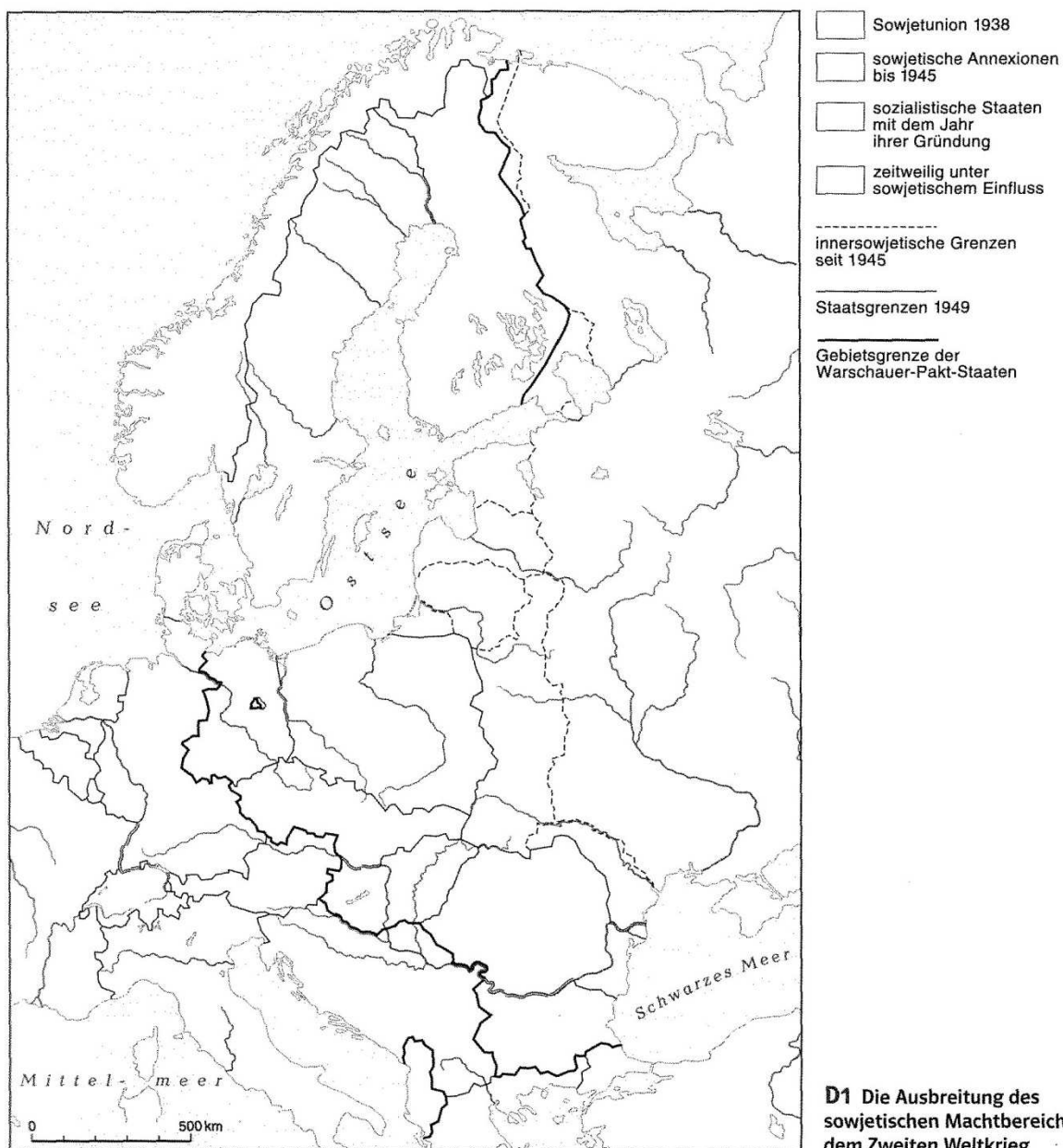
Planet Wissen, DDR Geteilte Stadt Berlin

[http://www.planet-wissen.de/geschichte/ddr/geteilte\\_stadt\\_berlin/index.html](http://www.planet-wissen.de/geschichte/ddr/geteilte_stadt_berlin/index.html)

letzter Zugang 29.09.2016

**2) Arbeite mit deinem Geschichtsbuch *Zeitreise 3, Ausgabe für Südtirol, Klettverlag, 2013 S.154–155.* (4 Punkte)**

Nimm dein Schulbuch zu Hilfe. Trage die Namen der Staaten in die Karte ein. Male erst das Staatsgebiet der UdSSR von 1938 dunkelrot, dann die Gebiete der sowjetischen Annexionen bis 1945 hellrot aus. Markiere nun die folgenden Staaten in der Farbe Orange: **Polen, DDR, Tschechoslowakei, Ungarn, Rumänien, Bulgarien.** Schraffiere **Jugoslawien** und **Albanien**. Zeichne die Farben in die Kartenlegende ein.



**D1** Die Ausbreitung des sowjetischen Machtbereichs seit dem Zweiten Weltkrieg

Wie nannte man die Grenze zwischen dem Westen und dem Osten Europas? Wie die Grenze zwischen West- und Ostberlin?. (2 Punkte)

.....

.....

**3) Lies dir den Text in deinem Geschichtsbuch *Zeitreise 3, Ausgabe für Südtirol, Klettverlag, 2013, S. 155 Q2* aus der Rede von US-Präsident Truman durch. (4 Punkte)**

Welche Lebensweise ist für den

- Westen Europas

.....  
.....  
.....

Welche Lebensweise ist für den

- Osten Europas

.....  
.....  
.....

zutreffend?

Von welcher Regierungsform ist im

- Westen .....
- Osten .....


die Rede? (2 Punkte)

**4) Beschreibe „Die deutsch-deutsche Grenze“ mit den Informationen deines Geschichtsbuch *Zeitreise 3, Ausgabe für Südtirol, Klettverlag, 2013, S. 196* (2 Punkte)**

.....  
.....  
.....  
.....  
.....  
.....

**5)Bringe die Fotos in die richtige Reihenfolge. (4 Punkte)**

In den ersten Jahren nach dem 2. Weltkrieg waren die Übergänge zwischen den drei westlichen Sektoren und dem östlichen Sektor Berlins nur einfache Straßensperren. Dann riegelt die DDR-Regierung am 13. August 1961 alle Zugänge nach West-Berlin ab. Die Berliner Mauer wird gebaut und West-Berlin wird eine „Insel“. Nur noch sehr wenige Personen mit gültigen Papieren können die Grenze nach West-Berlin passieren. Einer dieser Grenzübergänge war der Checkpoint Charlie. Die Fotos hier zeigen, wie dieser Grenzübergang immer weiter ausgebaut wurde. Leider sind die Fotos etwas durcheinander geraten.



Ein Ausflug in die Vergangenheit Checkpoint Charlie und die Berliner Mauer

Arbeitsblatt Nr. 4 Grundschule

[http://www.bfgg.de/fileadmin/website/Projekte/Downloads\\_pdf/Arbeitsbl%C3%A4tter\\_Grundschule\\_bfgg\\_2014.pdf](http://www.bfgg.de/fileadmin/website/Projekte/Downloads_pdf/Arbeitsbl%C3%A4tter_Grundschule_bfgg_2014.pdf)

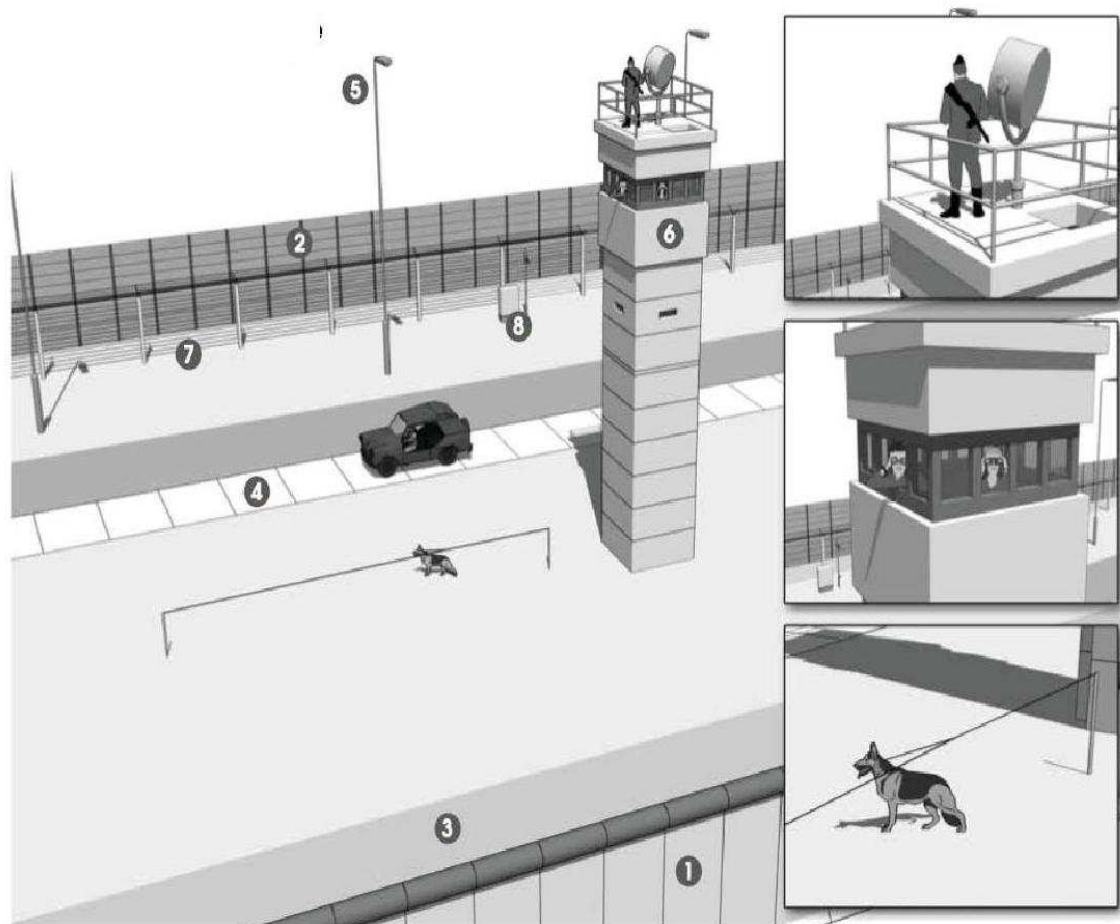
letzter Zugang 29.09.2016

**6) Nummeriere die einzelnen Bestandteile der Mauer. (8 Punkte)**

Chronik der Mauer, Lernen, Arbeitsblätter für die Grundschule, Arbeitsblatt Nr. 8 Aufbau und Funktion der Grenzanlage

<http://www.chronik-der-mauer.de/lernen/180267/arbeitsblaetter-fuer-die-grundschule>

letzter Zugang 29.09.2016



**So sah die Grenze aus, die sich durch die ganze Stadt zog**

Mauer (West-Berliner Seite)  
 Mauer (Ost-Berliner Seite)  
 Graben als Fahrzeugsperrung  
 Weg für die Grenzsoldaten

Beleuchtungsmast  
 Wachturm  
 Kontaktzaun  
 Schaltkasten für die Alarmanlage



## 7) Schneide die einzelnen Teile aus und klebe jeweils die passenden Fotos dazu. (12 Punkte)

Chronik der Mauer, Lernen, Arbeitsblätter für die Grundschule, Arbeitsblatt Nr. 3  
Zeitleiste Berlin nach dem 2. Weltkrieg

<http://www.chronik-der-mauer.de/lernen/180267/arbeitsblaetter-fuer-die-grundschule>  
letzter Zugang 29.09.2016



Am 8. Mai 1945 war der zweite Weltkrieg zu Ende. Deutschland hat den Krieg verloren. Viele Menschen mussten hungern. Häuser und Fabriken waren zerstört. Es gab zu wenig Wohnungen und keine Arbeit. Die Sieger (Amerika, Frankreich, England und die Sowjetunion) teilten Deutschland und Berlin auf. Vier Jahre später gab es die Bundesrepublik und die DDR, West-Berlin und Ost-Berlin.



Den Menschen in der DDR und in Ost-Berlin ging es schlecht. Es gab weniger zu essen und sie verdienten weniger Geld. Sie durften kaum mitbestimmen, was in ihrem Land passieren sollte. Am 17. Juni 1953 gingen viele Menschen auf die Straße, um dagegen zu demonstrieren. Die Regierung der DDR ging gegen die Demonstranten mit Panzern vor.



Aus Ost-Berlin sind viele Menschen nach West-Berlin gekommen. Damit nicht alle wegliefen, begann die Regierung der DDR am 13. August 1961 damit, eine Grenze aus Stacheldraht zwischen Ost- und West-Berlin zu errichten. Diese Grenze war von Soldaten bewacht. Es wurde die Berliner Mauer gebaut. Familien und Freunde wurden getrennt. Sie durften sich gegenseitig nicht mehr besuchen. Trotzdem versuchten einige Menschen aus Ost-Berlin, über die Mauer zu flüchten. Aber nur wenige schafften es. Die anderen wurden verhaftet, einige wurden sogar beim Fluchtversuch erschossen.



Die Menschen in der DDR waren nicht zufrieden. Sie gingen wieder auf die Straßen und demonstrierten. „Die Mauer muss weg!“, stand auf ihren Plakaten. Im Herbst 1989 fuhren viele nach Ungarn und flüchteten dort über die Grenze nach Österreich und weiter in die Bundesrepublik. Am 9. November 1989 fiel die Mauer. Berlin ist nicht mehr geteilt.





Foto: Bundespresseamt / Klaus Lehmann



Foto: bpk



Foto: Bundespresseamt / Uwe Rau



Quelle: Landesarchiv Berlin



Foto: AP



Foto: AP





Foto: AP



Foto: AP



Foto: AP




Foto: Bundespresseamt/ Helko Specht



Foto: Polizeihistorische Sammlung  
Der Polizeipräsident in Berlin



Foto: Bundespresseamt/ Horst Slegmann





**8) Nenne die sieben Gründe, warum Ostberliner nach West-Berlin geflohen sind.** (7 Punkte)

Chronik der Mauer, Lernen, Arbeitsblätter für die Grundschule, Arbeitsblatt Nr. 6  
Flucht von Ost-Berlin nach West-Berlin

<http://www.chronik-der-mauer.de/lernen/180267/arbeitsblaetter-fuer-die-grundschule>

letzter Zugang 29.09.2016



*Warum sind Sie aus der DDR geflohen?*

Meine große Liebe Marco wohnt in Wedding. Das ist West-Berlin. Ich lebe in Pankow, das ist in Ost-Berlin. Ich hatte Angst, dass ich ihn bald nicht mehr sehen kann, man konnte nämlich immer nur tagsüber über die Grenze. Ich habe befürchtet, dass sie die Grenze bald ganz dicht machen. Wir wollen nämlich heiraten. Deshalb bin ich dann abgehauen nach West-Berlin zu Marco.



*Und warum sind Sie geflohen?*

Ich arbeite bei Siemens. Das ist in West-Berlin. Wenn sie die Grenze bald dicht machen sollten, bin ich meinen Job los. Aber ich möchte meine Arbeit nicht verlieren, deshalb bin ich geflohen.



*Weshalb haben Sie die DDR verlassen?*

Mein Mann und ich hatten eine eigene Firma, doch alle Firmen und Betriebe gehören jetzt der DDR. Das nennt man Enteignung. Wir werden es jetzt in der Bundesrepublik noch einmal versuchen.



*Welches sind Ihre Fluchtgründe?*

Mir ist meine Freiheit wichtig. Ich bin immer schon viel gereist und war auch auf Wanderschaft. Ich habe auf meinen Reisen viele Leute kennen gelernt. Reisen ist in der DDR schwierig oder gar nicht möglich. Deswegen bin ich nach West-Berlin gegangen.



*Warum wollen Sie in West-Berlin leben?*

Ich möchte Tierarzt werden. Aber man darf sich in der DDR nicht immer seinen Beruf aussuchen. Ich sollte in einer Molkerei arbeiten, nur weil mein Vater Ingenieur ist. Da bin ich einfach abgehauen. Ob ich jetzt hier in West-Berlin Tierarzt werden kann... das weiß ich auch nicht.



Ich bin geflohen, weil:

- .....
- .....
- .....
- .....

- .....
- .....
- .....

**9) Flüchtlingszahl Juni bis Oktober 1961 (5 Punkte)**

Chronik der Mauer, Lernen, Arbeitsblätter für die Grundschule, Arbeitsblatt Nr. 6  
 Flucht von Ost-Berlin nach West-Berlin

<http://www.chronik-der-mauer.de/lernen/180267/arbeitsblaetter-fuer-die-grundschule>

letzter Zugang 29.09.2016

Stelle die Flüchtlingszahlen durch Strichmännchen dar.

Juni 1961 ..... 20.000 Flüchtlinge  
 Juli 1961 ..... 30.000 Flüchtlinge  
 August 1961 ..... 45.000 Flüchtlinge  
 September 1961 ..... 5.000 Flüchtlinge  
 Oktober 1961 ..... 5.000 Flüchtlinge

Ein  entspricht **5.000** Flüchtlingen

1961	Flüchtlingszahlen								
Juni									
Juli									
August									
September									
Oktober									

**Bewertungsskala:**  
 53 Punkte Note 10  
 46 Punkte Note 9  
 39 Punkte Note 8  
 32 Punkte Note 7  
 25 Punkte Note 6